


Hieronder staan de antwoorden van de oefeningen over toonhoogte.

De antwoorden van de andere vragen en opdrachten zijn weggelaten, omdat je die letterlijk in de tekst van de notatiebladen kunt vinden.


3

Leer alle noten van blz 1 uit je hoofd. Zet daarna *zonder op blz 1 te kijken* de namen onder de noten. Maak eerst A. Kijk dan wat je fout hebt gedaan. Leer het opnieuw en maak vervolgens opdracht B en C.


a



b




c



4

Teken bij de pijlen (telkens een stapje lager dan de vorige noot) de ontbrekende noten in de notenbalk. Denk om de juiste richting van de stokken!



5

Kijk eens goed naar het schema op de vorige bladzijde. Vul vervolgens hieronder de woorden "links" of "rechts" in:

Als de noten op de notenbalk **omhoog** gaan, moet je naar RECHTS op je instrument.

Als de noten op de notenbalk **omlaag** gaan, moet je naar LINKS op je instrument.

Anders gezegd:

Lage noten zitten LINKS en **hoge** noten zitten RECHTS op je instrument.

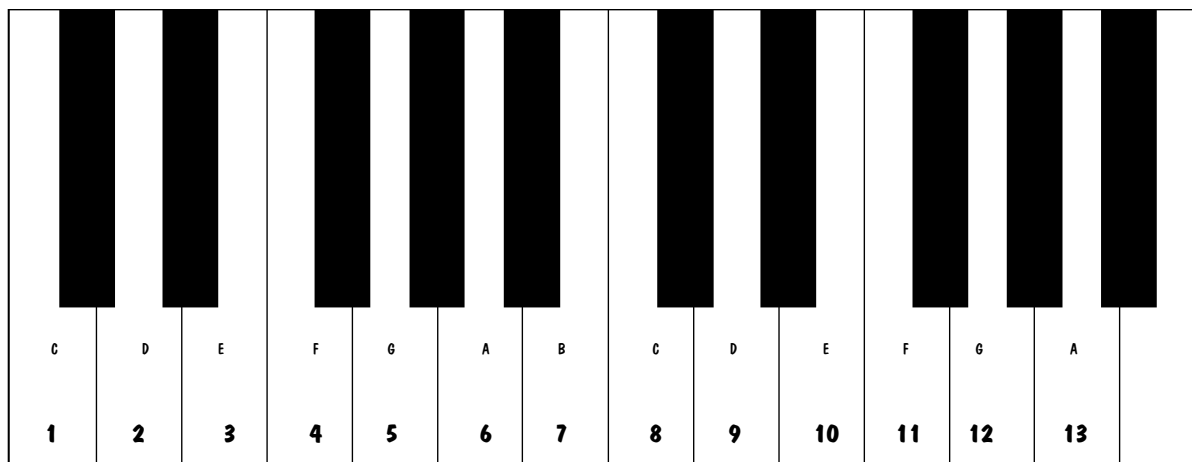
6

Welke toetsen horen bij deze noten ?

Bestudeer eerst het schema op de vorige bladzijde. Zet dan zonder naar dat schema te kijken onder elke noot eerst de naam van de noot en daaronder het **nummer** van de goede toets.



| | | | | | | | |
|---------------|------|------|------|------|------|------|------|
| De noot heet: | D | G | A | C | F | A | F |
| | --- | --- | --- | --- | --- | --- | --- |
| Hij hoort bij | 2 | 5 | 13 | 8 | 11 | 6 | 4 |
| toets nr: | ---- | ---- | ---- | ---- | ---- | ---- | ---- |



7

Noten tekenen is een precies werkje.

Als je het onduidelijk doet, speelt de muzikant een verkeerde noot...

Teken de gevraagde noten.

Maak de bolletjes niet te groot, maar ook niet te klein.

Denk om de juiste richting en de lengte van de stokken !

lage G lage C B lage A hoge E lage D lage F hoge A hoge D

